

Инструкция по заполнению листа ответов третьего (тестового) тура

1. Листы с тестовыми заданиями остаются у участников, их можно использовать в качестве черновиков.
 2. В листе ответов каждому из 30 вопросов соответствуют четыре варианта ответа. Они обозначены буквами А–Г. Необходимо выбрать **ТОЛЬКО ОДИН** вариант ответа, который вы считаете правильным, и обвести его на листе для ответа. Для этого следует использовать авторучку, обводить ответы карандашом нельзя.
 3. Исправления в листе ответов **НЕДОПУСТИМЫ**. Ответы, где есть исправления, обведено несколько вариантов ответа, или не обведён ни один вариант, не рассматриваются и не оцениваются.
 4. За правильный ответ на один вопрос начисляется **1 балл**, максимальная оценка – **30 баллов**.
-

1. Какое озеро является самым большим по площади в Зарубежной Европе?

- А. Балатон **Б. Венерн** В. Женевское Г. Лох-Несс

2. Кто в своей книге «Происхождение континентов и океанов» изложил теорию, ставшую основой современной геотектоники?

- А. Альфред Вегенер** В. Михаил Ломоносов
Б. Владимир Вернадский Г. Чарльз Лайель

3. Кто из ниже перечисленных исследователей прошёл водным путём по реке Касикьяре между бассейнами Амазонки и Ориноко?

- А. Александр фон Гумбольдт**
Б. Георг Генрих (Григорий Иванович) фон Лангсдорф
В. Николай Иванович Вавилов
Г. Чарльз Дарвин

4. В каких городах 21 декабря солнце в истинный полдень будет находиться практически в зените?

- А. Алис-Спрингс, Сан-Паулу, Уолфиш-Бей**
Б. Дакка, Гавана, Маскат
В. Куско, Порт-Морсби, Дар-эс-Салам
Г. Окленд, Сантьяго, Порт-Элизабет

5. Какова разница по местному времени между крайними западной и восточной (островной) точками России?

- А. 8 ч. 14 мин. Б. 9 ч. 54 мин. **В. 11 ч. 24 мин.** Г. 12 ч. 44 мин.

6. Какой из указанных заливов также известен как море Кортеса?

- А. Гуаякиль В. Ла-Плата
Б. Калифорнийский Г. Панамский

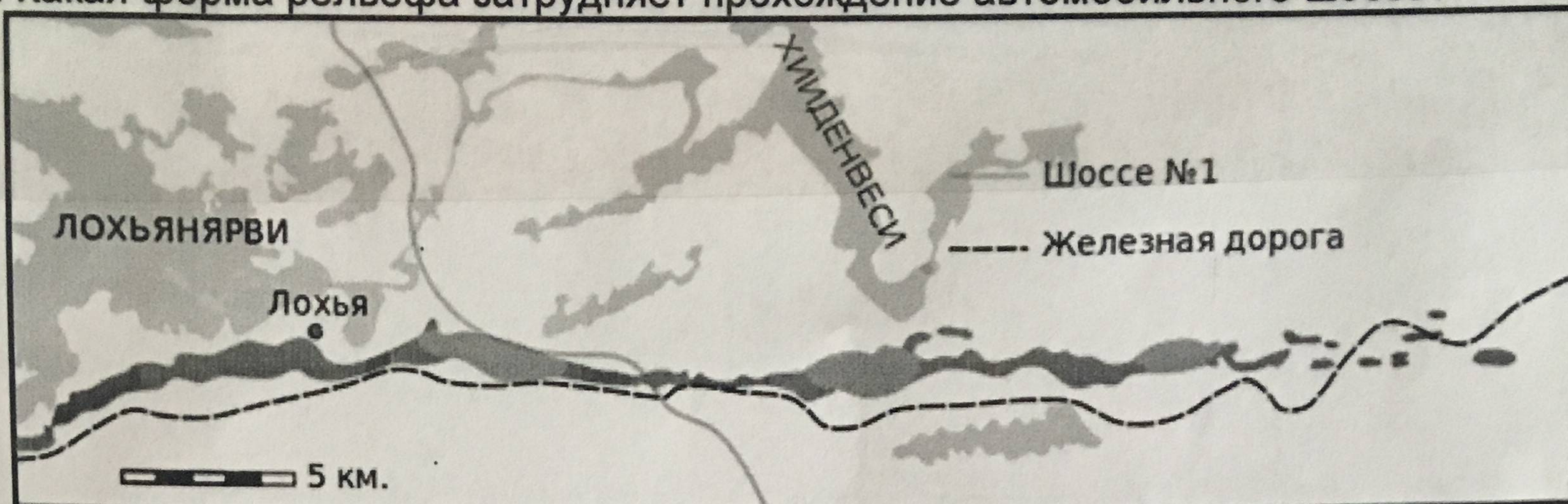
7. Территория какого из перечисленных островов является наиболее удалённой от любого другого участка суши на планете?

- А. Буве** Б. Вознесения В. Кергелен Г. Питкэрн

8. Какой из этих городов находится на реке бассейна внутреннего стока?

- А. Брянск Б. Курск В. Липецк **Г. Тамбов**

9. Какая форма рельефа затрудняет прохождение автомобильного шоссе?



А. Бараньи лбы

Б. Дюны

В. Конечно-моренная гряда

Г. Прирусловой вал

10. Какое сочетание средней температуры июля и годовой суммы осадков соответствует южной границе тундровой зоны?

А. +4 °С — 200–250 мм

В. +10 °С — 500–650 мм

Б. +10 °С — 200–250 мм

Г. +15 °С — 500–650 мм

11. Как называются изолированные плосковершинные вулканические подводные горы высотой до 5 км, вершины которых располагаются на относительно небольшой глубине?

А. Бэровы бугры

В. Конкреции

Б. Гайоты

Г. Лакколиты

12. В каком субъекте Российской Федерации по состоянию на 01.01.2017 доля мужчин в населении превышала 50%?

А. Владимирская область

В. Чеченская Республика

Б. Республика Дагестан

Г. Чукотский АО

13. Какой из ниже перечисленных портов специализирован на отгрузке сжиженного природного газа?

А. Ванино

В. Козьмино

Б. Де-Кастри

Г. Пригородное

14. В какой из перечисленных ниже стран доля промышленности в структуре ВВП превышает 50%?

А. Алжир

В. Лесото

Б. Замбия

Г. Экваториальная Гвинея

15. В какой из перечисленных пустынь самая высокая плотность населения?

А. Деште-Кевир

В. Малый Нефуд

Б. Намиб

Г. Тар

16. Какой из перечисленных топонимов является дромонимом?

А. Атакама

В. Эльбрус

Б. Чуйский тракт

Г. Янисъярви

17. Через русло какой реки построен только один железнодорожный мост?


А. Амур

Б. Лена

В. Нева

Г. Обь

18. Что изображено на фотографии?



- А. Золотоносный прииск
Б. Комплекс водоочистки

- В. Морской грузовой терминал
Г. Приливная электростанция

19. Какой из перечисленных регионов имеет наиболее густую речную сеть?

- А. Остров Сахалин
Б. Новосибирские острова

- В. Прикаспийская низменность
Г. Плато Устюрт

20. В честь какого города назван химический элемент лютеций?

- А. Люксембург Б. Париж В. Рим Г. Стокгольм

21. Какой из перечисленных городов имеет типичную многоядерную планировочную структуру?

- А. Брянск Б. Волгоград В. Вологда Г. Кострома

22. Ландшафт какой из перечисленных территорий входит в список Всемирного наследия ЮНЕСКО?

- А. Берингия В. Даурия
Б. Валдай Г. Фенноскандия

23. Как называется архипелаг, на котором находится Республика Кабо-Верде?

- А. Азорские острова В. Канарские острова
Б. Бермудские острова Г. острова Зелёного Мыса

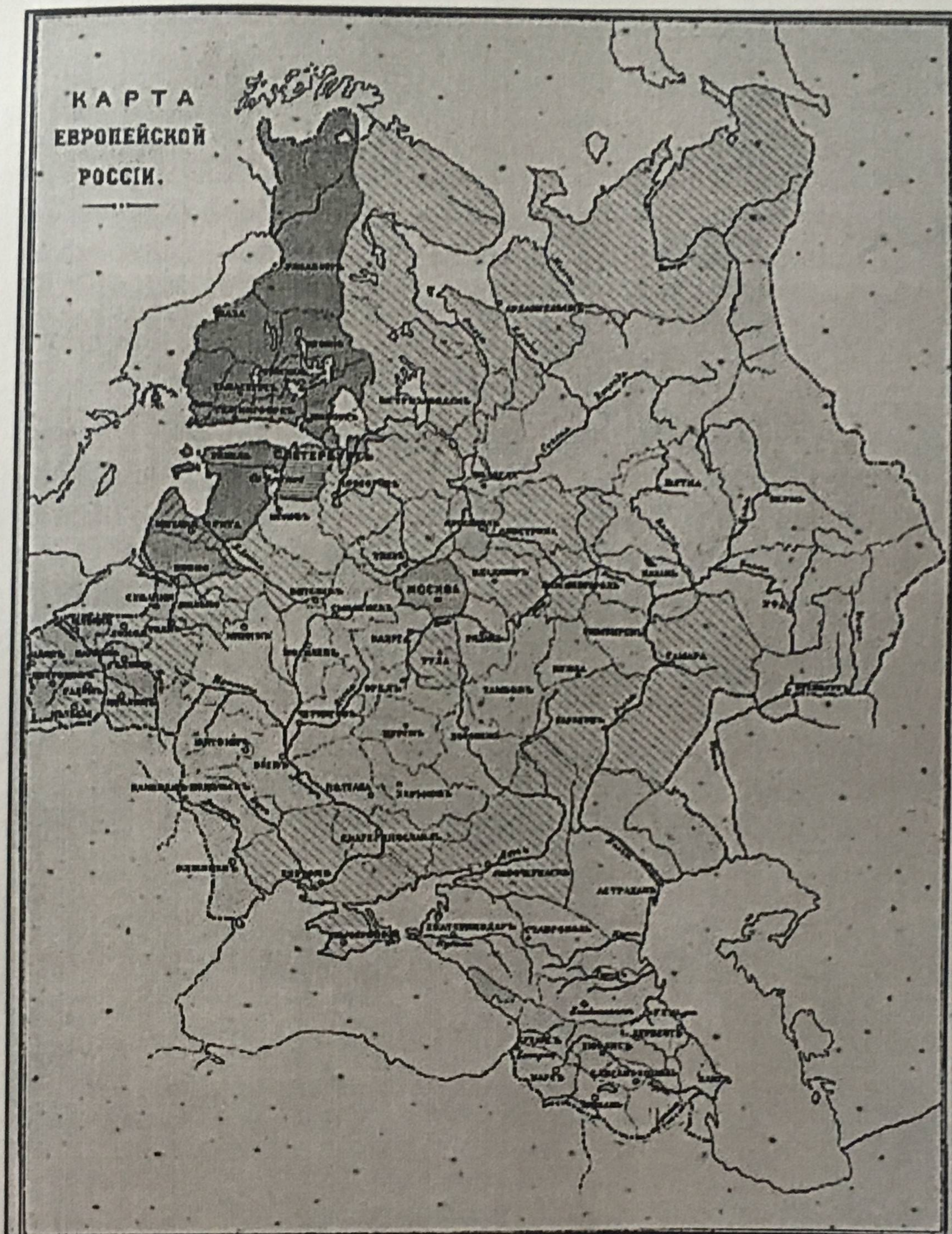
24. Какие страны НЕ имеют непосредственного выхода к морю?

- А. Австрия, Боливия, Ботсвана В. Боливия, Конго, Монголия
Б. Афганистан, Мали, Уругвай Г. Парагвай, Румыния, Судан

25. Какая из перечисленных стран имеет самый высокий показатель количества автомобилей на 1000 жителей?

- А. Австралия В. Швеция
Б. Германия Г. Япония

26. Распределение какого показателя отображено на картограмме, составленной по итогам Переписи населения Российской империи 1897 г.? (рис.3)



- А. Доля германоязычного населения
 Б. Доля промышленности в структуре производства
В. Уровень грамотности населения
 Г. Уровень урбанизации.

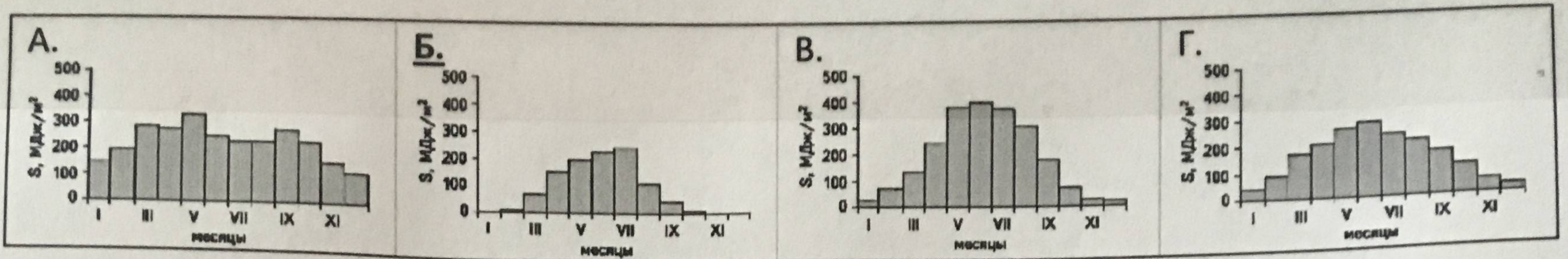
27. Как называется перемещение ветром снега в горизонтальном направлении на высоте до 1 м над снежным покровом?

- А. Вьюга
Б. Позёмка
 В. Снежная мгла
 Г. Шквал

28. Как называется хребет, высочайшей точкой которого является вершина г. Шикотан?

- А. Витязя**
 Б. Ломоносова
 В. Менделеева
 Г. Ширшова

29. Какой из рисунков соответствует годовому ходу прямой солнечной радиации в Мурманске?



30. Для какой горной страны характерна высотная поясность схема которой изображена на рисунке?



А. Алтай
Б. Кавказ

В. Саяны
Г. Сихотэ-Алинь